

1. राष्ट्रपति और मंत्रीपरिषद् के वर्तमान सम्बन्ध किस प्रावधान के द्वारा प्रभावित है ?
- (1) 42 वाँ संविधान संशोधन अधिनियम
(2) 44 वाँ संविधान संशोधन अधिनियम
(3) 52 वाँ संविधान संशोधन अधिनियम
(4) 54 वाँ संविधान संशोधन अधिनियम [2]
2. निम्नांकित में से किस समिति ने जिलाधीश की नियामकीय व विकासात्मक भूमिका व दायित्वों के पृथक्करण का सुझाव दिया था ?
- a) अशोक मेहता समिति
b) एल.एम. सिंघवी समिति
c) राजमन्नार समिति
d) जी.वी.के. राव समिति
- (1) (a) और (d) (2) (a) (b) और (c)
(3) (b) (c) और (d) (4) केवल (d) [4]
3. राष्ट्रपति द्वारा राज्यपाल की नियुक्ति का वारंट राज्यपाल द्वारा शपथ ग्रहण करने से पूर्व निम्न में से किसके द्वारा पढ़कर सुनाया जाता है ?
- (1) राज्य के महाधिवक्ता द्वारा
(2) सम्बन्धित राज्य के उच्च न्यायालय के मुख्य न्यायाधीश द्वारा
(3) राज्यपाल के सचिव द्वारा
(4) राज्य के मुख्य सचिव द्वारा [4]
4. स्थानीय शासन में "3F" से तात्पर्य है?
- (1) फंडिंग, फंक्शन और फीडबैक (2) फोर्सिंग, फीडबैक और फंडिंग
(3) फंक्शनिंग, फास्ट और फंड्स (4) फंड्स, फंक्शन्स और फंक्शनरीज [4]
5. ऐसा कटौती प्रस्ताव जिसके माध्यम से, माँगों में से एक सौ रूपए कम किये जाने का प्रस्ताव किया जाता है, उसे क्या कहा जाता है ?
- (1) मितव्ययता कटौती प्रस्ताव (2) नीति कटौती प्रस्ताव
(3) प्रतीकात्मक कटौती प्रस्ताव (4) प्रत्युयानुदान कटौती प्रस्ताव [3]
6. संविधान के किस अनुच्छेद के अधीन भारत सरकार भारतीय संघ के नाम से और राज्य सरकारें राज्य के नाम से वाद कर सकती है या उनके विरुद्ध—वाद किया जा सकता है ?
- (1) अनुच्छेद 299 (2) अनुच्छेद 300
(3) अनुच्छेद 301 (4) अनुच्छेद 302 [2]

7. निम्नलिखित में से किस वाद में निर्णय हुआ कि संविधान की उद्देशिका संविधान का भाग है ?
- (1) इन रि बेरूबाड़ी यूनियन एंड एक्सचेंज ऑफ एन्क्लेव
(2) केशवानन्द भारती केरल राज्य
(3) गोलक नाथ बनाम पंजाब राज्य
(4) कुंज बिहारी बनाम भारत संघ [2]
8. उच्च न्यायलय के न्यायाधीशों की नियुक्ति किसके द्वारा की जाती है ?
- (1) भारत के प्रधानमंत्री द्वारा (2) राष्ट्रपति द्वारा
(3) राज्य के राज्यपाल द्वारा (4) राज्य के मुख्यमंत्री द्वारा [2]
9. राष्ट्रीय मानवाधिकार आयोग की स्थापना कब हुई ?
- (1) अक्टूबर 12, 1993 (2) दिसम्बर 10, 1994
(3) जनवरी, 10, 1994 (4) मार्च 12, 1994 [1]
10. मानवाधिकार हनन के कृत्य से कितनी समयावधि के पश्चात राष्ट्रीय मानवाधिकार आयोग उस मामले में जांच नहीं करेगा ?
- (1) एक वर्ष (2) दो वर्ष (3) छः माह (4) पांच वर्ष [1]
11. निम्न में से किसको राष्ट्रीय मानवाधिकार आयोग का प्रथम अध्यक्ष नियुक्त किया गया था ?
- (1) न्यायमूर्ति रंगनाथ मिश्र (2) न्यायमूर्ति एम.एन. वैकटचलैया
(3) न्यायमूर्ति जे.एस. वर्मा (4) न्यायमूर्ति राजेन्द्र बाबू [1]
12. भारतीय संविधान के लिए अनुच्छेद द्वारा मानव, जिसमें बच्चे भी सम्मिलित है, का दुर्व्यापार प्रतिषेध है ?
- (1) अनुच्छेद 23 (2) अनुच्छेद 24
(3) अनुच्छेद 36 (4) अनुच्छेद 38 [1]
13. मानवाधिकार संरक्षण अधिनियम को किस वर्ष में संशोधित किया गया ?
- (1) वर्ष 2000 में (2) वर्ष 2003 में
(3) वर्ष 2006 में (4) वर्ष 2007 में [3]
14. किस मौलिक अधिकार को डॉ. अम्बेडकर ने संविधान की "आत्मा और हृदय" कहा है?
- (1) समता का अधिकार (2) शोषण के विरुद्ध अधिकार
(3) धर्म की स्वतंत्रता का अधिकार (4) संवैधानिक उपचारों का अधिकार [4]
15. राज्य सभा में प्रतिनिधित्व की दृष्टि से सही क्रम पहचानिये : (कम से अधिक की ओर)
- (1) राजस्थान, मध्यप्रदेश, कर्नाटक, उत्तरप्रदेश
(2) कर्नाटक, राजस्थान, मध्यप्रदेश, उत्तरप्रदेश
(3) मध्य प्रदेश, राजस्थान, कर्नाटक, उत्तर प्रदेश
(4) कर्नाटक, मध्य प्रदेश, राजस्थान, उत्तर प्रदेश [1]

16. संविधान के किस अनुच्छेद में धन विधेयक संबंधी विशेष प्रक्रिया का वर्णन किया गया है

- (1) 105 (2) 215 (3) 109 (4) 249 [3]

17. कथन – 1935 के अधिनियम के तहत भारत में संघ स्थापना नहीं हो सकी।
कारण – भारतीय राजाओं ने संघ में शामिल होना स्वीकार नहीं किया।

- (1) कथन व कारण दोनों सत्य हैं, कारण कथन की सही व्याख्या करता है।
(2) कथन व कारण दोनों सत्य हैं, परन्तु कारण कथन की सही व्याख्या नहीं करता है।
(3) कथन सही है, कारण गलत है।
(4) कारण सही है, कथन गलत है। [2]

18. मौलिक अधिकार से संबंधित सत्य कथन को छांटिये—

- A. भारतीय राज्य क्षेत्र के बाहर किन्तु भारत सरकार के नियंत्रण में रहने वाले भारतीय नागरिक संविधान में उल्लेखित मौलिक अधिकारों का आश्रय ले सकते हैं।
B. संविधान में उल्लेखित मौलिक अधिकारों में से कुछ से सशस्त्र बलों के सदस्यों को वंचित रखने के संबंध में संसद निर्णय ले सकता है।
C. भारतीय संविधान में मौलिक अधिकार तीसरे संविधान संशोधन के तहत जोड़े गए।
D. मौलिक अधिकारों को राष्ट्रपति निलंबित भी कर सकता है।

कूट—

उपर्युक्त में से कौनसा कथन सत्य है—

- (1) B, D (2) A, B, C
(3) A, B, D (4) A, B, C, D [3]

19. सुमेलित कीजिए—

- | | |
|---|---------------------------|
| A. द्विसदनात्मक केन्द्रीय विधानमण्डल | 1. चार्टर एक्ट 1833 |
| B. भारत परिषद का अंत | 2. भारत शासन अधिनियम 1858 |
| C. भारत सचिव का पद सृजित | 3. भारत शासन अधिनियम 1935 |
| D. गवर्नर जनरल को वधि आयोग नियुक्त करने का अधिकार | 4. भारत शासन अधिनियम 1919 |

कूट :

- | | A | B | C | D | |
|-----|---|---|---|---|-----|
| (1) | 4 | 3 | 2 | 1 | |
| (2) | 2 | 3 | 1 | 4 | |
| (3) | 4 | 3 | 1 | 2 | |
| (4) | 1 | 2 | 3 | 4 | [1] |

20. निम्नलिखित किन तरीकों से लोकसभा मंत्रिपरिषद् के उत्तरदायित्व को व्यवहारिकता प्रदान करती है?

- A. किसी मंत्री द्वारा पेश की गई धन की माँग को अस्वीकार करके
- B. मंत्रिपरिषद् के विरुद्ध अविश्वास का प्रस्ताव पारित करके
- C. मंत्रियों से पूरक प्रश्न पूछकर
- D. मंत्री विशेष के विरुद्ध अविश्वास प्रस्ताव पारित कर
- E. मंत्री परिषद् के किसी मंत्री द्वारा प्रस्तुत विधेयक को अस्वीकार करके

कूट—

उपर्युक्त में से कौनसा कथन सत्य है—

(1) A, C, D, E

(2) A, B, D, E

(3) A, D, E

(4) A, B, C, D, E

[4]

21. संविधान का अनुच्छेद—78 संबंधित है—

- A. राष्ट्रपति का प्रधानमंत्री से सूचना प्राप्त करने का अधिकार
- B. योजना आयोग का गठन
- C. राष्ट्रीय विकास परिषद् का संगठन
- D. किसी मंत्री द्वारा निश्चित तथा मंत्रिपरिषद् द्वारा अविचारिक सूचना प्राप्त करने का राष्ट्रपति का अधिकार।

कूट—

उपर्युक्त में से सत्य कथन का चयन।

(1) A, C

(2) B, C

(3) A, D

(4) C, D

[3]

22. सुमेलित कीजिए—

सूची—I

A. अनुच्छेद 51

B. अनुच्छेद 40

C. अनुच्छेद 44

D. अनुच्छेद 45

सूची—II

1. बालकों को निःशुल्क व अनिवार्य शिक्षा

2. नागरिकों के लिए एक समान व्यवहार संहिता

3. ग्राम पंचायतों का गठन व खामतीकरण

4. अन्तर्राष्ट्रीय शांति व सुरक्षा की उन्नति

कूट :

	A	B	C	D
(1)	4	3	2	1
(2)	2	3	4	1
(3)	2	4	3	1
(4)	1	2	4	3

[1]

23. राष्ट्रीय खाद्य सुरक्षा मिशन का एक लक्ष्य धारणीय रीति से देश के चुनिंदा जिलों में खेतीगत जमीन में बढ़ोतरी और उत्पादकता में वृद्धि लाकर कुछ फसलों की उत्पादकता में वृद्धि लाना है। ये फसलें कौन-कौन सी हैं?

- (1) केवल चावल और गेहूं
- (2) केवल चावल, गेहूं और दलहन
- (3) केवल चावल, गेहूं, दलहन और तिलहन
- (4) चावल, गेहूं, दलहन, तिलहन और सब्जियां

[2]

24. निम्नलिखित कथनों पर विचार कीजिए—

देश में तिलहन की मांग को पूरा करने के लिए भारत अभी भी आयात पर निर्भर करता है, क्योंकि

- (1) किसान अन्य खाद्यान्नों के पैदा करने की अधिमान देते हैं
- (2) तिलहन की फसलों की पैदावार अधिकांशतः वर्षा पर निर्भर करती है।
- (3) पेड़ों से उत्पन्न बीजों तथा चावल चोकर से तेल निकालने की प्रक्रियाओं को अभी प्रयोग में नहीं लाया गया।
- (4) तिलहन की फसल को पैदा करने की अपेक्षा तिलहन का आयात बहुत सस्ता पड़ता है।

उपरोक्त कथनों में से कौन-से सही हैं?

- (1) A और B
- (2) A, B और C
- (3) C और D
- (4) A, B, C और D

[2]

25. सार्वजनिक वितरण प्रणाली को बनाए रखने और सुरक्षित भंडार के निर्माण के लिए जिन कीमतों पर सरकार खाद्यान्न खरीदती है, वे:

- (1) न्यूनतम समर्थन कीमतों के नाम से जानी जाती है।
- (2) वसूली कीमतों के नाम से जानी जाती है।
- (3) निर्गम कीमतों के नाम से जानी जाती हैं
- (4) उच्चतम (सीलिंग) कीमतों के नाम से जानी जाती हैं

[1]

26. सहभागिता नोट (Participatory Notes) (PNs) निम्नलिखित में से किस एक से संबंधित हैं?

- (1) भारतीय संचित निधि
- (2) विदेशी संस्थागत निवेशक
- (3) संयुक्त राष्ट्र विकास कार्यक्रम
- (4) क्योटो प्रोटोकाल

[2]

27. विकासशील देशों को विश्वव्यापी पूंजी-प्रवाह में नब्बे के दशक में महत्वपूर्ण वृद्धि हुई। एशियाई वित्तीय संकट और लैटिन अमेरिकी अनुभव को देखते हुए किस प्रकार का अन्तर्वाह मेजबान देश के लिए अच्छा है?

- (1) व्यावसायिक ऋण
- (2) विदेशी प्रत्यक्ष निवेश
- (3) विदेशी पोर्टफोलियो निवेश
- (4) बाह्यव्यावसायिक ऋण

[2]

28. WTO का पूर्ववर्ती नाम था—

- (1) UNCTAD
- (2) GATT
- (3) UNIDO
- (4) OECD

[2]

29. TRIPS समझौते का अनुपालन करने के लिए भारत ने जिलोग्राफिकल इंडिकेशन्स ऑफ गुड्स (रेजिस्ट्रेशन एवं प्रोटेक्शन) ऐक्ट, 1999 अधिनियमित किया। “व्यापार चिन्ह” (ट्रेड मार्क) तथा भौगोलिक संकेत (जियोग्राफिक इंडिकेशन) के बीच निम्नलिखित अंतर है/हैं—

A. व्यापार चिन्ह किसी व्यक्ति या कंपनी का अधिकार है जबकि भौगोलिक संकेत किसी एक समुदाय का अधिकार है।

B. व्यापार चिन्ह को अनुज्ञप्त नहीं किया जा सकता, जबकि भौगोलिक संकेत को अनुज्ञप्त किया जा सकता।

C. व्यापार चिन्ह उत्पादित माल के लिए समनुदेशित किया जाता है, जबकि भौगोलिक संकेत केवल कृषि माल—उत्पाद तथा हस्तशिल्प के लिए समनुदेशित किया जाता है।

D. उपर्युक्त में से कौन सा/से सही है/हैं?

(1) केवल A

(2) केवल A और B

(3) केवल B और C

(4) A, B और C

[4]

30. भारत में बैंकिंग लोकपाल संस्था के संदर्भ में निम्नलिखित में से कौन सा एक कथन सही नहीं है?

(1) बैंकिंग लोकपाल की नियुक्ति भारतीय रिजर्व बैंक करता है।

(2) बैंकिंग लोकपाल भारत में खाता रखने वाले अनिवासी भारतीयों की शिकायतें सुन सकता है

(3) बैंकिंग लोकपाल द्वारा पारित आदेश अंतिम और संबंधित पक्षों के लिए बाध्यकारी हैं

(4) बैंकिंग लोकपाल द्वारा दी गई सेवाएं निःशुल्क होती हैं

[4]

31. तारापोर समिति निम्नलिखित में से किस एक से संबंधित थी?

(1) विशेष आर्थिक क्षेत्र

(2) पूर्ण पूंजी लेखा संपरिवर्तनीयता

(3) विदेश मुद्रा भंडार

(4) भारतीय अर्थव्यवस्था पर तेल की कीमतों का प्रभाव

[2]

32. APMC अधिनियम राजस्थान में किस उद्देश्य से लागू किया गया—

(1) कृषि उत्पादों के विपण को सुविधा देने के लिए

(2) कृषि उत्पादकता बढ़ाने के लिए

(3) निर्यात को सुविधा देने के लिए

(4) आयात को सुविधा देने के लिए

[1]

33. वर्ष 2016—17 के लिए राजस्थान राज्य का अनुमानित राजकोषीय घाटा GSDP का कितना प्रतिशत है—

(1) 8.29%

(2) 9.9%

(3) 3.5%

(4) 2.99%

[4]

34. सुमेलित कीजिए—

विद्वान

आर्यों का मूल देश

A. मैक्समूलर

1. ब्रह्मर्षि देश

B. गाइल्स

2. बैक्ट्रिया

C. दयानन्द सरस्ती

3. हंगरी अथवा डेन्यू नदी की घाटी

D. गंगानाथ झा

4. तिब्बत

कूट :

	A	B	C	D	
(1)	1	2	3	4	
(2)	2	3	4	1	
(3)	2	3	1	4	
(4)	3	2	4	1	[2]

35. ऋग्वैदिक काल में किस प्रकार के परिवार की प्रथा थी—

(1) एकल परिवार

(2) संयुक्त परिवार

(3) सभी वर्णों के लोग एक साथ मिलकर रहते थे।

(4) सारे गौत्र के लोग एक परिवार के सदस्य थे

[2]

36. सुमेलित कीजिए—

सूची-I

सूची-II

A. आकाश का देवता

1. पर्जन्य, वायु

B. अंतरिक्ष का देवता

2. पृथ्वी, सरस्वती

C. पृथ्वी का देवता

3. घौस, मित्रा

कूट :

	A	B	C	
(1)	1	2	3	
(2)	2	3	1	
(3)	2	1	3	
(4)	1	3	2	[4]

37. सुमेलित कीजिए।

सूची-I

- A. इक्ष्वाकु
B. पंचाल
C. मैथिल
D. अश्मक

सूची-II

1. आंध्र के गोदावरी नदी के तट
2. नेपाल की तराई में स्थित वर्तमान जनकपुर
3. वर्तमान रुहेल खण्ड का क्षेत्र
4. कोसल का क्षेत्र

कूट :

	A	B	C	D
(1)	1	2	3	4
(2)	1	3	2	4
(3)	4	3	2	1
(4)	4	2	3	1

[3]

38. राष्ट्रकूट वंश के शासकों से सम्बन्धित कौनसा कथन असत्य है—

- (1) इनके संरक्षण में ब्राह्मण तथा जैन धर्म का विकास हुआ
(2) जैन धर्म को राजकीय संरक्षण प्राप्त था
(3) गोविन्द तृतीय के समय जैन धर्म का सर्वाधिक विकास हुआ
(4) ब्राह्मण धर्म की तुलना में जैन धर्म का अधिक प्रचार—प्रसार हुआ [3]

39. मौर्य राजधानी पाटलिपुत्र का प्रशासन कितनी समितियों के सहयोग से चलाया जाता था—

- (1) छः समितियों (2) आठ समितियों
(3) चार समिति (4) पाँच समितियों [1]

40. मौर्य काल में बलि क्या था—

- (1) स्वेच्छाकारी कर
(2) भूमि कर में राजा का हिस्सा
(3) वह कर जिसकी आमदनी शिक्षण संस्थाओं से जुड़े लोगों को दिया जाता था
(4) एक प्रकार का धार्मिक कर [4]

41. बौद्ध श्रमणों के आहार—संबंधी अनुशासन में बौद्ध भिक्षुओं को अनुमति थी—

- A. भिक्षा माँगने की
B. भोजन के लिए निमंत्रण स्वीकार करने की
C. मठ में भेजी गई भेंट ग्रहण करने की
D. किसी विशेष प्रकार के आहार के लिए अपनी इच्छा प्रकट करने की

कूट—

उपर्युक्त में से कौनसा कथन सत्य है—

- (1) A व B (2) C व D
(3) A, B व D (4) A, B व C [1]

42. निम्नलिखित विदेशी लेखकों (Foreign Authors) पर विचार कीजिए—

- A. टीसियस
B. मेगस्थनिय
C. प्लिनी
D. टॉलमी

उपर्युक्त लेखकों का सही कालानुक्रम है—

- (1) 1, 4, 3, 2
(2) 1, 2, 3, 4
(3) 3, 1, 4, 2
(4) 2, 4, 1, 3 [2]

43. हुमायूं द्वारा लड़े गए चार प्रमुख युद्धों का तिथि अनुसार सही क्रम (पहले से बाद के क्रम में) अंकित करें, युद्ध-स्थलों के नाम निम्नलिखित हैं—

- (1) चौसा, दौराह, कन्नौज, सरहिन्द
(2) दौराह, कन्नौज, चौसा, सरहिन्द
(3) सरहिन्द, दौराह, चौसा, कन्नौज
(4) दौराह, चौसा, कन्नौज, सरहिन्द [4]

44. ज्योतिबा फुले के विषय में कौनसा कथन असत्य है—

- (1) फुले ने बुद्ध व कबीर के क्रांतिकारी विचारों को अपने में समन्वित किया।
(2) उन्होंने छुआछूत को हिन्दू धर्म पर एक कलंक के रूप में लिया।
(3) उन्होंने एक पुस्तिका लिखी जिसका शीर्षक 'दासता' था।
(4) वे दलित जाति के जननेता थे। [3]

45. सी. राजगोपालाचारी सूत्र (प्रस्तावों) का क्या प्रयोजन था?

- (1) मुस्लिम लीग की पाकिस्तान सम्बन्धी मांग पर कोई समझौता करना
(2) अन्तरिम सरकार के गठन के लिए मुस्लिम लीग का सहयोग प्राप्त करना।
(3) भारत की स्वतंत्रता के लिए मुस्लिम लीग का समर्थन प्राप्त करना।
(4) उपर्युक्त सभी [4]

46. महाद्वीपीय विस्थापन को स्पष्ट करने वाला नवीनतम सिद्धान्त कौन है—

- (1) टेलर की महाद्वीपीय विस्थापन परिकल्पना
(2) वेगनर का महाद्वीपीय विस्थापन सिद्धान्त
(3) चतुष्फलक परिकल्पना
(4) प्लेट विवर्तनिकी सिद्धान्त [4]

47. सुमेलित कीजिए।

सूची-I

- A. पूर्व का बोस्टन
B. सूती वस्त्रों की राजधानी
C. उत्तर भारत का मैनचेस्टर
D. दक्षिण भारत का मैनचेस्टर

सूची-II

1. कोयम्बटूर
2. अहमदाबाद
3. कानपुर
4. मुम्बई

कूट :

	A	B	C	D
(1)	2	4	3	1
(2)	3	2	4	1
(3)	1	3	2	4
(4)	1	2	3	4

[1]

48. निम्न में से कौनसे ज्वालामुखी सक्रिय ज्वालामुखी है—

- A. अकांकगुआ B. एटना C. फ्युजीयामा D. विसुवियस

कूट—

उपर्युक्त में से सत्य कथन का चयन।

- (1) A, B (2) B, C
(3) B, D (4) C, D

[3]

49. सुमेलित कीजिए।

जनननिक अवस्थाएं

- A. सूर्य, पृथ्वी और चन्द्रमा समकोण पर
B. सूर्य, चन्द्रमा और पृथ्वी सरल रेखा में
C. चन्द्रमा, पृथ्वी के समीपतम
D. चन्द्रमा, पृथ्वी से सबसे अधिक दूरी पर

परिणामी (ज्वारभाटा)

1. वृहत्, ज्वार भाटा
2. लघु ज्वारभाटा
3. अपभू ज्वारभाटा
4. भूमिनीव ज्वारभाटा ज्वारभाटा

कूट :

	A	B	C	D
(a)	2	1	4	3
(b)	4	3	1	2
(c)	4	3	2	1
(d)	3	4	2	1

[1]

50. सुमेलित कीजिए—

प्रमुख दर्रे	राज्य
A. बनिहाल	1. जम्मू एवं कश्मीर
B. रोहतांग	2. हिमाचल प्रदेश
C. नाथूला	3. सिक्किम
D. बोमडीला	4. अरुणाचल प्रदेश

कूट :

	A	B	C	D
(1)	2	1	3	4
(2)	1	2	3	4
(3)	3	4	1	2
(4)	4	3	2	1

[2]

51. घाटशिला किससे सम्बन्धित है—

- (1) झारखण्ड में ताँबा प्रगलन संयंत्र से
- (2) मध्यप्रदेश में ताँबा उत्खलन केन्द्र से
- (3) राजस्थान से सम्बन्धित है
- (4) उपर्युक्त में से कोई नहीं

[1]

52. भारत में सबसे लम्बी गैस पाइप लाइन है—

- (1) बॉम्बे हाई, मुम्बई—अंकलेश्वर—कोयली पाइप लाइन
- (2) नूनामती—सिलीगुड़ी पाइपलाइन
- (3) अंकलेश्वर—कोयली पाइप लाइन
- (4) हजीरा—बीजापुर—जगदीशपुर (HBJ) गैस पाइप लाइन

[4]

53. निम्नांकित में से कौन हिमालय पर्वतीय दर्रों का पूर्व से पश्चिम सही क्रम प्रदर्शित करता है?

- (1) शिपकी ला—लिपू ला—नाथू ला—बोमडी ला
- (2) लिपू ला—शिपकी ला—नाथू ला—बोमडी ला
- (3) बोमडी ला—नाथू ला—लिपू ला—शिपकी ला
- (4) नाथू ला—लिपू ला—शिपकी ला—बोमडी ला

[3]

54. सुमेलित कीजिए—

सूची-I

- A. दोदाबेट्टा
B. नन्दा देवी
C. अमरकण्टक
D. गुरु शिखर

सूची-II

1. नीलगिरि पहाड़ियाँ
2. हिमालय पर्वत
3. अरावली मालाएँ
4. मैकाल मालाएँ

कूट :

	A	B	C	D
(1)	2	1	3	4
(2)	3	2	1	4
(3)	1	2	4	3
(4)	4	1	2	3

[3]

55. निम्नलिखित कारकों पर विचार कीजिए :-

- A. पृथ्वी का आवर्तन
B. वायु दाब और हवा
C. महासागरीय जल का घनत्व
D. पृथ्वी का परिक्रमण

उपर्युक्त में से कौन-से कारक महासागरीय धाराओं को प्रभावित करते हैं?

- (1) केवल A और B
(2) A, B, और C
(3) A और D
(4) B, C और D

[2]

56. झारखण्ड में गोमिया किसके लिए जाना जाता है?

- (1) कोयला क्षेत्र
(2) मैगनीज खनन
(3) उर्वरक संयंत्र
(4) विस्फोटक कारखाना

[4]

57. कथन (A) – भारतीय चाय का नीलामी मूल्य तथा निर्यात सन् 1998 से घट रहे हैं।

कारण (B) – भारत को बहुत से नए चाय उत्पादक देशों की प्रतिस्पर्धा का सामना करना पड़ रहा है।

- (1) 'A' और 'R' दोनों सही है तथा 'R, A' की सही व्याख्या है
(2) 'A' और 'R' दोनों सही है परन्तु 'R, A' की सही व्याख्या नहीं है
(3) 'A' सही है परन्तु 'R' गलत है
(4) 'A' गलत है, परन्तु 'R' सही है

[1]

58. निम्न में से लद्दाख में किस तरह की वनस्पति पाई जाती है?

- (1) सदाबहारी शंक्वाकार वन
(2) झाड़ियाँ
(3) पतझड़ वन
(4) छोटी घासें

[4]

59. भारत के किस शहर में एशिया का पहला DNA बैंक स्थापित किया गया है?

- (1) जयपुर
(2) कोटा
(3) चेन्नई
(4) लखनऊ

[4]

60. भारत में निर्मित प्रथम स्वदेशी वायुयान वाहक है?

- (1) INS विराट (2) INS विशाल
(3) INS विराम (4) INS विक्रान्त [4]

61. विद्युत बल्ब में प्रयुक्त की जाने वाली गैस है—

- (1) नियॉन (2) हाइड्रोजन
(3) ऑक्सीजन (4) इनमें से कोई नहीं [1]

62. 'शुष्क बर्फ' (Dry Ice) किसे कहते हैं?

- (1) ठोस कार्बन डाइऑक्साइड (2) जमा हुआ वर्षा का जल
(3) 0° सेन्टीग्रेड पर साधारण बर्फ (4) -53° सेन्टीग्रेड पर जमा हुआ जल [1]

63. LPG का मुख्य घटक है—

- (1) मीथेन (2) ईथेन
(3) पेन्टेन (4) ब्यूटेन [4]

64. भारत ने समुद्री निगरानी तथा पनडुब्बीरोधी तकनीक से लैस विमान 'पोसाइडन-8 आई' किस देश से खरीदने के लिए जुलाई-2016 में समझौता किया?

- (1) इजराइल (2) रूस
(3) ब्राजील (4) अमेरिका [4]

65. स्वदेश निर्मित टॉरपीडो वरुणास्त्र के बारे में असत्य कथन है—

- (A) भारत से पहले 7 देशों के पास यह तकनीक है।
(B) इसका विकास, DRDO ने किया है।
(C) यह स्थिर और छिपे हुए पनडुब्बी को भी निशाना बना सकती है।

- (1) केवल A (2) केवल B
(3) दोनों (4) A, B, C तीनों [3]

66. ISRO ने 22 जून, 2016 को कार्टोसैट-2 सहित एक साथ 20 उपग्रहों का प्रक्षेपण किस यान से किया?

- (1) PSLV C32 (2) PSLV C33
(3) PSLV-C-35 (4) PSLV 34 [4]

67. पृथ्वी-2 मिसाइल की मारक क्षमता है?

- (1) 200 Km. (2) 2000 Km.
(3) 350 Km. (4) 3500 Km. [3]

68. परमाणु मिसाइल-4 के बारे में सत्य कथन है?
 (A) यह बैलेस्टिक मिसाइल है
 (B) इसकी मारक क्षमता 3500 km. तक है
 कूट—
 (1) केवल A (2) केवल B
 (3) A, B दोनों (4) कोई नहीं [3]
69. खाद्य में आयोडीन की कमी से निम्नलिखित बीमारी होती है—
 (1) खून की कमी (2) बेरी-बेरी (3) सुखँडी (4) घेंघा [4]
70. निम्नलिखित में से कौनसी बीमारी लिंग गुणसूत्र (Sex chromosomes) के माध्यम से होती है?
 (1) रतौंधी (Night blindness) (2) वर्णान्धता (Colour blindness)
 (3) निकट दृष्टि (Myopia) (4) दूर दृष्टि (Hypermetropia) [2]
71. इन्सुलिन की कमी से कौनसा रोग हो जाता है?
 (1) मधुमेह (2) पीलिया
 (3) स्कर्वी (4) इनमें से कोई नहीं [1]
72. पृथ्वी पर 'ग्रीनहाउस प्रभाव' का मुख्य स्रोत कौनसी गैस है?
 (1) कार्बन डाइऑक्साइड (2) कार्बन मोनोऑक्साइड
 (3) क्लोरोफ्लोरो कार्बन (4) फ्रिओन [1]
73. राजस्थान जैव प्रौद्योगिकी नीति-2015 के बारे में कौनसा कथन सत्य है?
 (A) अलवर, उदयपुर, बीकानेर, कोटा, जोधपुर में मेगा जैव-प्रौद्योगिकी लाइफ-साइंस पार्क बनाये जायेंगे।
 (B) जैव प्रौद्योगिकी के क्षेत्र में अगले 5 वर्षों में 2000 रु. का निवेश किया जायेगा।
 (1) केवल A (2) केवल B
 (3) A, B दोनों (4) कोई नहीं [3]
74. केन्द्रीय भैंस अनुसंधान केन्द्र हिसार द्वारा मुर्राह भैंस के क्लोन को क्या नाम दिया गया?
 (1) हिसार गौरव (2) हिसार रत्न
 (3) हिसार भाग्य (4) हिसार शृंगार [1]
75. गाँवों को ब्रॉडबैंड से जोड़ने वाली केन्द्र सरकार की योजना है?
 (1) भारत नेट (2) भारत कनेक्ट
 (3) भारत भाग्य (4) ई-धरती [1]
76. PSLV C-34 के बारे में सत्य कथन है?
 (A) इससे 20 उपग्रहों को मात्र 26 मिनट के अन्तराल में प्रक्षेपित किया।
 (B) इनमें 17 विदेशी तथा 3 भारतीय उपग्रह थे।
 कूट —
 (1) केवल A (2) केवल B
 (3) A, B दोनों (4) कोई नहीं [3]

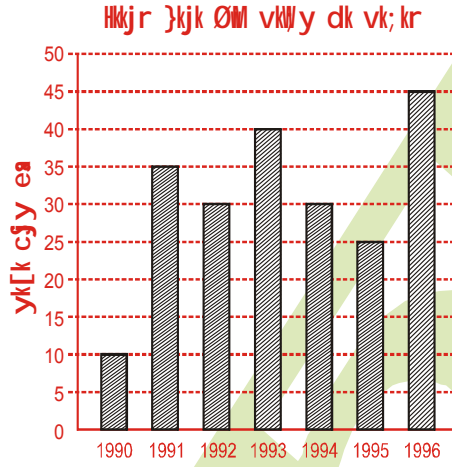
77. भारतीय उष्णकटिबंधीय मौसम विज्ञान संस्थान द्वारा बनाया गया सबसे तेज सुपर कम्प्यूटर का नाम है?

- (1) I Data Plex (2) India 77
(3) मिरा (4) सिक्वोयो [1]

78. निम्नलिखित में से कौनसा आधुनिक टैंक है—

- (1) भीम (2) आकाश (3) अर्जुन (4) पृथ्वी [3]

79. वर्ष 1991 से 1992 तक क्रूड ऑयल में कितने प्रतिशत कमी रही?



- (1) $22\frac{1}{3}\%$ (2) $18\frac{3}{7}\%$
(3) $8\frac{1}{3}\%$ (4) $14\frac{2}{7}\%$ [4]

80. यदि दर प्रतिशत में, समय वर्ष में समान हो, तो बताओ कितने % साधारण ब्याज की दर से किसी धन का साधारण ब्याज उस धन का $\frac{4}{9}$ भाग होगा—

- (1) 5% (2) $6\frac{1}{3}\%$
(3) $6\frac{2}{3}\%$ (4) $7\frac{1}{2}\%$ [3]

81. कोई धन चक्रवृद्धि ब्याज की किसी दर से 3 वर्षों में 3000 रु. एवं 6 वर्षों में 4000 रु. होता है। धन का ज्ञात करो—

- (1) 2250 (2) 2400
(3) 2500 (4) 2800 [1]

82. 40 लीटर दूध-पानी के मिश्रण में दूध-पानी का अनुपात 5:3 है। इसमें से कितने लीटर मिश्रण को हटाकर उतना ही पानी मिलाना होगा, कि अंतिम मिश्रण में दूध-पानी का अनुपात 3:5 हो जाए।

- (1) 8 लीटर (2) 12 लीटर
(3) 15 लीटर (4) 16 लीटर [4]

83. एक चुनाव में दो उम्मीदवार थे। 10% मतदाताओं ने अपने मताधिकार का उपयोग नहीं किया। डाले गये मतों में से 10% मत खारिज किये गये। जीतने वाले उम्मीदवार ने वैद्य मतों का 55% प्राप्त कर 2430 मतों से चुनाव जीता। बताओं चुनाव में कुल कितने मतदाता थे?

- (1) 25000 (2) 28000
(3) 30000 (4) 32000 [3]

84. A रु. 1200 अंकित एक वस्तु खरीदता है और 10% तथा 20% की क्रमिक छूट पाता है। वह अपने क्रय मूल्य का 10% परिवहन पर खर्च करता है। वह इस वस्तु को किस मूल्य पर बेचे कि 15% का लाभ मिले?

- (1) रु. 1130.75 (2) रु. 1092.96
(3) रु. 1125 (4) रु. 1100 [2]

85. 55 kg के एक मिश्रण में दूध और जल का अनुपात 7 : 4 है। अनुपात को 7 : 6 करने के लिए मिलाए जाने वाले जल की मात्रा है

- (1) 15 kg (2) 10 kg (3) 5 kg (4) 12 kg [2]

86. कथन तनाव शारीरिक तथा मानसिक स्वास्थ्य के लिए हानिकारक होता है। निष्कर्ष I. स्वस्थ रहने के लिए व्यक्ति को तनावमुक्त होना चाहिए।

II. मानसिक स्वास्थ्य व्यक्ति द्वारा अनुभव किए गए तनाव पर निर्भर करता है।

- (1) केवल निष्कर्ष I निकलता है
(2) केवल निष्कर्ष II निकलता है
(3) न तो निष्कर्ष I और न ही निष्कर्ष II निकलता है
(4) निष्कर्ष I और II दोनों निकलते हैं [4]

87. एक कूट भाषा में, DOWNBEAT को TABEWNDO लिखा जाता है। तदनुसार, उसी कूट-भाषा में PROSPECT शब्द को कैसे लिखा जाएगा?

- (1) TCPESOPR (2) TCPEOSRP
(3) TCEPSORP (4) TCPEOSPR [4]

88. कथन अत्यधिक फीस वृद्धि के विरोध में स्थानीय पब्लिक स्कूल के अधिकांश विद्यार्थियों के माता—पिता ने स्कूल से अपने प्रतिपाल्यों (बच्चों) को निकाल लेने का निर्णय लिया है।

कार्यवाहीयाँ

I. स्कूल प्राधिकरण को माता—पिताओं के साथ बातचीत शुरू करनी चाहिए और किन परिस्थितियों में फीस बढ़ानी पड़ी है यह समझाना चाहिए।

II. यदि स्कूल से बड़ी संख्या में विद्यार्थियों को निकाल लिया जाता है, तो स्कूल प्राधिकरण को तत्काल रिक्तियों को भरने के लिए नए विद्यार्थियों की खोज करनी चाहिए।

(1) केवल कार्यवाही I अनुसरण करती है

(2) केवल कार्यवाही II अनुसरण करती है

(3) न ही कार्यवाही I और न ही कार्यवाही II अनुसरण करती है

(4) कार्यवाहीयाँ I और II दोनों अनुसरण करती हैं

[1]

89. कथन क्या, भारत में विद्युत उत्पादन के लिए परमाणु ऊर्जा के उपयोग पर पूर्णतः प्रतिबन्ध लगा दिया जाना चाहिए?

तर्क I. हाँ, परमाणु ऊर्जा के उपयोग से पर्याप्त स्तर तक विद्युत उत्पादन के लिए भारत के पास पर्याप्त संसाधन नहीं हैं और इसे प्राकृतिक संसाधन को एकत्रित करने पर ध्यान केन्द्रित करना चाहिए।

II. नहीं, भारत में ऊर्जा के पारम्परिक स्रोत तेजी से समाप्त होते जा रहे हैं अतः विद्युत उत्पादन के लिए इसे परमाणु ऊर्जा का उपयोग करना चाहिए।

(1) केवल तर्क I ठोस हैं

(2) केवल तर्क II ठोस हैं

(3) न तो तर्क I और न ही तर्क II ठोस हैं

(4) तर्क I और तर्क II दोनों ठोस हैं

[2]

90. कथन : सभी कैलेण्डर दुकानें हैं।

सभी दुकानें बाजार हैं।

सभी बाजार नदियाँ हैं।

सभी नदियाँ मन्दिर हैं।

निष्कर्ष: I. कुछ बाजार कैलेण्डर हैं।

II. कुछ नदियाँ दुकानें हैं।

III. कुछ मन्दिर बाजार हैं।

(1) केवल निष्कर्ष I अनुसरण करता है

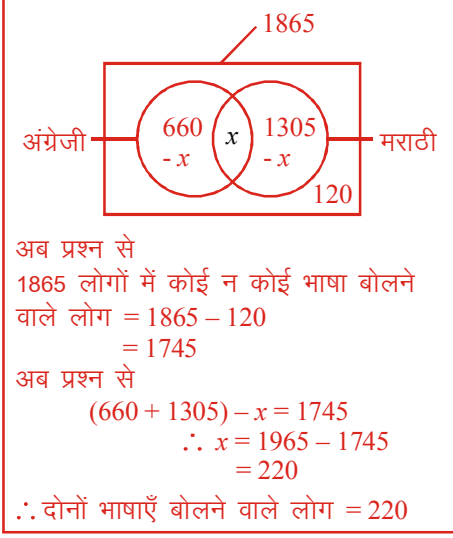
(2) केवल निष्कर्ष I और II अनुसरण करते हैं

(3) केवल निष्कर्ष II और III अनुसरण करते हैं

(4) निष्कर्ष I, II और III अनुसरण करते हैं

[4]

91. 1865 लोगों में से, 660 अंग्रेजी बोल सकते हैं और 1305 मराठी बोल सकते हैं। परंतु 120 व्यक्ति दोनों में से कोई भी भाषा नहीं बोल सकते हैं, तो कितने लोग दोनों भाषा बोल सकते हैं?

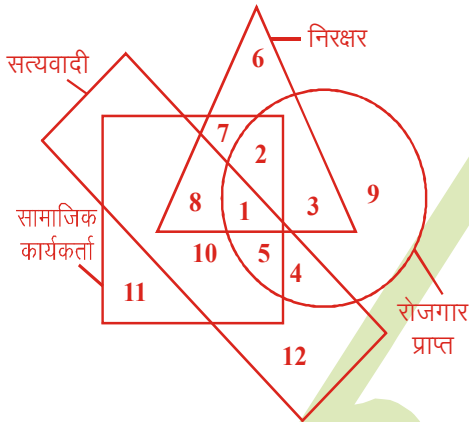


- (1) 220
 (3) 120

- (2) 440
 (4) 1085

[1]

92.



दी गई आकृति में वृत्त रोजगार प्राप्त व्यक्तियों के लिए है, वर्ग सामाजिक कार्यकर्ता के लिए है, त्रिभुज निरक्षर व्यक्तियों के लिए और आयत सत्यवादी व्यक्तियों के लिए है। रोजगार प्राप्त, सत्यवादी और निरक्षर सामाजिक कार्यकर्ता किस क्षेत्र द्वारा दर्शाए गए हैं?

- (1) 5

- (2) 4

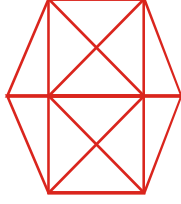
- (3) 2

- (4) 1

[4]

चित्र से स्पष्ट है कि नंबर 1 वाली आकृति रोजगार प्राप्त, सत्यवादी और निरक्षर सामाजिक कार्यकर्ताओं को प्रदर्शित करता है।

93. निम्न आकृति में कितने त्रिभुज हैं?



- (1) 20 (2) 24 (3) 28 (4) 32 [3]

एक घटक वाले त्रिभुजों की संख्या = 12
 दो घटक वाले त्रिभुजों की संख्या = 10
 तीन घटक वाले त्रिभुजों की संख्या = 4
 चार घटक वाले त्रिभुजों की संख्या = 2
 \therefore कुल त्रिभुजों की संख्या = 12+10+4+2 = 28

94. नई दिल्ली रेलवे स्टेशन से लखनऊ के लिए प्रत्येक 2:33 घण्टे बाद रेलगाड़ी है। स्टेशन पर एक उद्घोषणा होती है कि लखनऊ के लिए 27 मिनट पूर्व एक गाड़ी जा चुकी है तथा अगली गाड़ी 18:19 बजे जाएगी। यह उद्घोषणा कब की गई?

- (1) 5:13 बजे (2) 16:23 बजे
 (3) 16:13 बजे (4) 20:22 बजे [3]

18:00 बजे से पहले वाली
 ट्रेन का समय = (18:00-2:30)
 = 15:30
 उद्घोषणा का समय = 15:30 + 40 मिनट =
 = 16:10 बजे


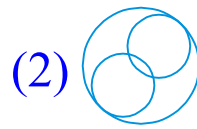

95. नीचे दी गई आकृतियों के अनुसार कौनसा सही होगा?



- (1) A के विपरीत E है (2) E के विपरीत C है
 (3) D के विपरीत C है (4) A के विपरीत F नहीं है [3]

A = B, C, D, E अतः A को विपरीत F
 B = A, C, D, E अतः B का विपरीत E
 D = A, B, E, F अतः D का विपरीत C

96. कौनसी आकृति ऐसी है जो परिवार, पुत्र और पुत्रियों का प्रतिनिधित्व करती है?



[3]

97. असंगत छांटिये—

- (1) 720 (2) 520 (3) 130 (4) 68 [1]

98. सुमेलित कीजिए।

सूची—I

- A. इकतारा
B. डांडिया
C. पूँगी
D. नगाड़ा

सूची—II

1. धातु निर्मित वाद्य
2. तंतु वाद्य
3. अनवद्य वाद्य
4. सुषिर वाद्य

कूट :

	A	B	C	D	
(1)	1	2	3	4	
(2)	4	3	2	1	
(3)	2	3	4	1	
(4)	2	1	4	3	[4]

99. राजस्थान में पुरुषों का मुख्य पहनावा है—

- (1) कुरता (2) चोगा
(3) अंगरखी (4) आतमसुख [3]

100. सुमेलित कीजिए—

सूची—I

- A. ख्यात
B. वार्ता
C. पातड़ा
D. रासौ

सूची—II

1. मौखिक साहित्य
2. इतिहास
3. महाकाव्य का वृहद् साहित्यिक रूप
4. व्यक्ति की स्मृति में गाया जाने वाला गीत

कूट :

	A	B	C	D	
(1)	2	1	4	3	
(2)	2	3	4	1	
(3)	1	2	3	4	
(4)	4	3	2	1	[1]

101. 'रूणीचा रा धणी' बाबा रामदेव से सम्बन्धित कथनों पर विचार कीजिए—

- (1) बाबा रामदेव को हिन्दू कृष्ण का अवतार मानते हैं
(2) कामड़िया पंथ रामदेवजी से प्रारम्भ हुआ माना जाता है
(3) नेजा एक ध्वजा है, जो बाबा रामदेव के मंदिरों/देवरा पर फहराई जाती है
(4) रामदेवजी का जन्म खड़नाल में हुआ था

कूट :-

उपर्युक्त में से कौनसा कथन सत्य है—

- (1) A, B व C (2) A व C (3) केवल D (4) B व D [1]

102. निम्न में से कौनसा कथन असत्य है—

- | | | | |
|---------------|---|-------------------|-----|
| (1) हल षष्ठी | — | भाद्रपद कृष्णा 6 | |
| (2) गोगा नवमी | — | चैत्र कृष्णा 9 | |
| (3) रक्षाबंधन | — | श्रावण पूर्णिमा | |
| (4) शिवरात्रि | — | फाल्गुन कृष्णा 13 | [2] |

103. निम्न में से लौह युगीन सभ्यता है—

- (1) बेणेश्वर (डूंगरपुर), कालीबंगा (हनुमानगढ़), पुंगल (बीकानेर)
- (2) भीनमाल (जालौर), प्लाना (जालौर), मलाह (भरतपुर)
- (3) नोह (भरतपुर), जोधपुरिया (जयपुर), सुनारी (झुँझुनूँ)
- (4) तरखानवाला (गंगानगर), बूढ़ा पुष्कर (अजमेर), कुराडा (परबतसर) [3]

104. पी. सत्यनारायण राव समिति सम्बन्धित थी—

- (1) मत्स्य संघ के राजस्थान में विलय से
- (2) लावा चीफशिप को जयपुर राज्य में शामिल करने से
- (3) जयपुर को राजस्थान की राजधानी बनाने से
- (4) आबू एवं देलवाड़ा को राजस्थान में मिलाने से [3]

105. सुमेलित कीजिए।

लेखक

ग्रंथ

- | | |
|----------------|---------------------|
| A. करणीदान | 1. अजितोदय |
| B. दोलतविजय | 2. कान्हड़दे प्रबंध |
| C. पद्मनाभ | 3. खुमाणरासो |
| D. जगजीवन भट्ट | 4. सूरजप्रकाश |

कूट :

- | | A | B | C | D |
|-----|---|---|---|---|
| (1) | 4 | 3 | 2 | 1 |
| (2) | 3 | 2 | 4 | 1 |
| (3) | 4 | 1 | 3 | 2 |
| (4) | 1 | 2 | 3 | 4 |

[1]

106. 'मेवाड़ पुकार' है—

- (1) केसरीसिंह बारहठ द्वारा रचित एक शौर्य गाथा।
- (2) जयनारायण व्यास द्वारा संपादित एक मासिक पत्रिका।
- (3) मेवाड़ प्रजामंडल का साप्ताहिक अखबार
- (4) मोतीलाल तेजावत द्वारा तैयार एक माँग पत्र, जो महाराणा मेवाड़ को प्रस्तुत किया गया था [4]

107. राजप्रशस्ति से सम्बन्धित कथनों पर विचार कीजिए।

- A. राजप्रशस्ति के रचयिता रणछोड़ भट्ट तैलंग थे
- B. इसमें बप्पा से लेकर राजसिंह तक के शासकों का वर्णन है
- C. यह 25 काले पाषाणों पर संस्कृत में जयसमंद झील की नौ-चौकी पाल की ताकों में लगी है
- D. यह प्रशस्ति महाराणा राजसिंह के समय की है

कूट—

उपर्युक्त में से कौनसा कथन सत्य है—

- (1) केवल A
- (2) A, B, C
- (3) केवल C
- (4) A, B, D

[4]

108. एजोर्प है—

- (1) कृषि उत्पादों के भण्डारण हेतु शीत भण्डारग्रहों की स्थापना के उद्देश्य से स्थापित संस्थान
- (2) रतनजोत की खेती को बढ़ावा देने के लिए बीकानेर में स्थापित संस्थान
- (3) जोजोबा की खेती को बढ़ावा देने के उद्देश्य से 1996—97 में स्थापित संस्थान
- (4) उपर्युक्त में से कोई नहीं

[3]

109. निम्न में से कौनसा जैविक उद्यान (Biological Park) राजस्थान में है—

- (1) नाहरगढ़
- (2) सज्जनगढ़
- (3) माचिया
- (4) उपर्युक्त सभी

[4]

110. सुमेलित कीजिए।

नदी

जिले

- | | |
|------------|----------------------------------|
| A. गंभीर | 1. जयपुर, अलवर |
| B. बाणगंगा | 2. करौली, धौलपुर |
| C. पार्वती | 3. जयपुर, दौसा, भरतपुर |
| D. साबी | 4. करौली, सवाई — माधोपुर, भरतपुर |

कूट :

- | | A | B | C | D | |
|-----|---|---|---|---|-----|
| (1) | 4 | 3 | 2 | 1 | |
| (2) | 3 | 2 | 4 | 1 | |
| (3) | 2 | 3 | 4 | 1 | |
| (4) | 1 | 2 | 3 | 4 | [1] |

111. राजस्थान के निम्न में से किन जिलों में 'लाल लोम' (Red loam) मृदा पाई जाती है—

- (1) बाँसवाड़ा—डूंगरपुर
- (2) जयपुर—दौसा
- (3) उदयपुर—कोटा
- (4) भीलवाड़ा—अजमेर

[1]

112. राजस्थान का वह भौतिक भू-भाग जो वायु-अपरदन से सर्वाधिक प्रभावित है—

- (1) पूर्वी मैदानी भाग (2) उत्तरी-पश्चिमी मरूस्थलीय भाग
(3) दक्षिणी-पूर्वी पठारी भाग (4) अरावली मध्यवर्ती क्षेत्र [2]

113. निम्न में से कौनसा राजस्थान वानिकी एवं जैव-विविधता परियोजना का उद्देश्य नहीं है—

- (1) जल संरक्षण (2) वृक्षारोपण
(3) बाढ़ नियंत्रण (4) जैव-विविधता संरक्षण [3]

114. राजस्थान की जलवायु से सम्बन्धित कथनों पर विचार कीजिए—

- A. शीतकाल में यहाँ पश्चिमी विक्षोभों से होती है
B. राजस्थान में वर्षा की मात्रा दक्षिण-पूर्व से उत्तर-पश्चिम की ओर कम होती जाती है
C. यहाँ की जलवायु उपोष्ण शुष्क प्रकार की है
D. राजस्थान की जलवायु में महाद्वीपीय जलवायु की तरह विषमातायें नहीं पायी जाती है

कूट—

उपर्युक्त में से कौनसा कथन सत्य है—

- (1) A व B (2) B व D
(3) A, B व C (4) केवल D [3]

115. निम्न में से कौनसा जिला राजस्थान में 'कत्था' (अकेसिया-कटेचु) का मुख्य उत्पादक है—

- (1) उदयपुर व चित्तौड़गढ़ (2) बाँसवाड़ा व बारां
(3) भरतपुर व अलवर (4) सीकर व हनुमानगढ़ [1]

116. सुमेलित कीजिए—

- | | |
|----------------------------------|-------------|
| A. सर्वाधिक ऊन उत्पादक जिला | 1. जयपुर |
| B. न्यूनतम ऊन उत्पादक जिला | 2. जोधपुर |
| C. एशिया की ऊन की सबसे बड़ी मंडी | 3. झालावाड़ |
| D. सर्वाधिक दुग्ध उत्पादक जिला | 4. बीकानेर |

कूट :

- | | A | B | C | D |
|-----|---|---|---|---|
| (1) | 1 | 2 | 3 | 4 |
| (2) | 2 | 4 | 1 | 3 |
| (3) | 2 | 3 | 4 | 1 |
| (4) | 3 | 1 | 2 | 4 |
- [3]

117. रबी-फसलों में सर्वाधिक उत्पादक निम्न में से किस फसल का होता है—

- (1) राई एवं सरसों (2) जौ (3) चना (4) अलसी [1]

118. पूर्वी मैदानी भौतिक प्रदेश की निम्न में से कौनसी नहरें हैं—

- (1) गंगनहर (2) इंदिरा गांधी नहर
(3) भीखाभाई सागवाड़ा नहर (4) भरतपुर नहर एवं गुड़गांव नहर [4]

119. निम्न में से कौनसा कथन असत्य है—

- (1) सीमावर्ती क्षेत्रीय कार्यक्रम—1986—87
(2) कंदरा सुधार कार्यक्रम—1987—88
(3) मरुगोचर योजना—2003—04
(4) मेवात क्षेत्रीय विकास कार्यक्रम—1992—93 [4]

120. राजस्थान का प्रथम सोलर विद्युत गाँव का दर्जा किसे मिला है—

- (1) नायला (2) जगजीवनपुर
(3) श्री कोलायत लूम्बासर (4) खोराबीसल [3]

121. सुमेलित कीजिए।

- | | |
|--|----------------------------------|
| A. चीतल की मातृभूमि | 1. सीतामाता अभ्यारण्य |
| B. राज्य का सबसे छोटा अभ्यारण्य | 2. सरिस्का 'अ' वन्यजीव अभ्यारण्य |
| C. पद्म तालाब, मलिक तालाब एवं राजबाग झील | 3. रणथम्भौर राष्ट्रीय उद्यान |
| D. काले हिरणों के लिए प्रसिद्ध अभ्यारण्य | 4. ताल छापर अभ्यारण्य |

कूट :

- | | A | B | C | D | |
|-----|---|---|---|---|-----|
| (1) | 3 | 4 | 1 | 2 | |
| (2) | 2 | 3 | 4 | 1 | |
| (3) | 1 | 2 | 3 | 4 | |
| (4) | 1 | 3 | 2 | 4 | [3] |

122. सुमेलित कीजिए।

- | फसल | उत्पादक जिला |
|------------|--------------|
| A. मक्का | 1. जयपुर |
| B. जौ | 2. उदयपुर |
| C. मूंगफली | 3. बीकानेर |
| D. कपास | 4. हनुमानगढ़ |

कूट :

- | | A | B | C | D | |
|-----|---|---|---|---|-----|
| (1) | 2 | 1 | 3 | 4 | |
| (2) | 1 | 3 | 4 | 2 | |
| (3) | 1 | 4 | 2 | 3 | |
| (4) | 2 | 4 | 1 | 3 | [1] |

123. ऑपरेशन फ्लड कार्यक्रम सन् 1970 में राजस्थान सहित 10 राज्यों में शुरू किया गया था, इसके प्रमुख उद्देश्य थे—

- (1) दुग्ध उत्पादन को बढ़ाना
- (2) दुग्ध उत्पादकों को दूध का उचित मूल्य दिलवाना
- (3) उपभोक्ताओं तक अच्छी किस्म के दूध का वितरण सुनिश्चित करना
- (4) उपर्युक्त सभी [4]

124. राज्य वन नीति जारी की गई—

- (1) 2005 में
- (2) 2007 में
- (3) 2009 में
- (4) 2010 में [4]

125. सुमेलित कीजिए।

- | | |
|--|----------------|
| A. कर्क रेखा से राज्य का सर्वाधिक नजदीक शहर | 1. पंजाब |
| B. वह जिला जिसकी सीमा सर्वाधिक आठ जिलों से | 2. श्रीगंगानगर |
| C. रेडक्लिफ लाइन के सर्वाधिक नजदीक शहर | 3. बाँसवाड़ा |
| D. राज्य की सबसे कम लम्बी अन्त-राज्यीय सीमा रेखा | 4. पाली |

कूट :

- | | A | B | C | D | |
|-----|---|---|---|---|-----|
| (1) | 3 | 4 | 2 | 1 | |
| (2) | 1 | 2 | 3 | 4 | |
| (3) | 2 | 3 | 1 | 4 | |
| (4) | 3 | 1 | 4 | 2 | [1] |

126. निम्न में से कौनसा कथन असत्य है—

- (1) राजस्थान का गौरव—चित्तौड़गढ़
- (2) राजस्थान का हरिद्वार—मातृकुण्डिया
- (3) वस्त्र एवं अभ्रक नगरी—भीलवाड़ा
- (4) पीले पत्थरों का शहर—जयपुर [4]

127. राजस्थान के उत्तर से दक्षिण एवं पूर्व से पश्चिम रेखा खींचने पर वह किस जिले में एक दूसरे को काटेगी?

- (1) अजमेर
- (2) नागौर
- (3) पाली
- (4) भीलवाड़ा [2]

128.सुमेलित कीजिए—

(पुस्तक)

(लेखक)

A. करेज एण्ड कमिटमेंट

1. मार्गरेट अल्वा

B. रिंगसाइड विद विजेन्दर

2. रुद्रनील सेनगुप्ता

C. अर्ली हिन्दू टेम्पल्स ऑफ गुजरात

3. वरुण मायरा

D. इंडियाज़ ब्रोकेन ट्राइस्ट

4. तवलीन सिंह

कूट :

	A	B	C	D
(1)	1	2	3	4
(2)	2	3	1	4
(3)	3	4	2	1
(4)	4	3	2	1

[1]

129.सुमेलित कीजिए—

(पुरस्कार)

व्यक्ति

A. ज्ञानपीठ पुरस्कार 2015

1. रघुवीर चौधरी

B. मिस्टर वर्ल्ड 2016

2. रोहित खण्डेलवाल

C. रेमन मैग्सेसे पुरस्कार

3. बेजवाड़ा व टी.एस. कृष्णा

D. आईएमओ पुरस्कार

4. राधिका मेनन

कूट :

	A	B	C	D
(1)	2	3	4	1
(2)	3	4	1	2
(3)	1	2	3	4
(4)	4	3	2	1

[3]

130.केन्द्रीय मंत्रिपरिषद् से सम्बन्धित कौनसा कथन असत्य है—

(1) सुश्री उमा भारती — जल संसाधन, नदी विकास तथा गंगा संरक्षण राज्य मंत्री

(2) राधा मोहन सिंह — कृषि एवं विकास कल्याण राज्यमंत्री

(3) डॉ. रामशंकर कठेरिया — मानव संसाधन विकास राज्य मंत्री

(4) जुएल ओराम — जनजातीय मामले के राज्यमंत्री

[3]

131. 'गिव इट अप' अभियान से सम्बन्धित कौनसा कथन असत्य है—

- (1) एलपीजी पर दी जाने वाली सब्सिडी को स्वतः ही स्वेच्छा से त्यागने के लिए 'गिव इट अप' का आह्वान केन्द्र सरकार ने किया है
- (2) इस अभियान के तहत जून 2016 तक 1 करोड़ से अधिक लोग स्वेच्छा से यह सब्सिडी त्याग चुके हैं
- (3) इस सब्सिडी का उपयोग प्रधानमंत्री उज्ज्वला योजना में किया जा रहा है
- (4) उपर्युक्त में से कोई नहीं [4]

132. 'स्वच्छ भारत मिशन' के आधार पर कराए गए पहले स्वच्छता सर्वेक्षण 2016 में किस शहर को शीर्ष स्थान प्राप्त हुआ है—

- (1) सूरत (गुजरात)
- (2) धनबाद (झारखण्ड)
- (3) मैसूर (कर्नाटक)
- (4) जयपुर (राजस्थान) [3]

133.1 जून, 2016 से केन्द्र सरकार ने सेवाकर को बढ़ा लिया है। इस संबंध में कथनों पर विचार कीजिए—

- A. 1 जून 2016 के बाद कुल सेवाकर 15% हो गया है
- B. पिछले एक वर्ष में सेवाकर में 2.64% की वृद्धि हुई है
- C. स्वच्छ भारत और कृषि कल्याण दो नए सेस हैं, जिनकी दर 0.5% है
- D. पानी, बिजली और टेलीकॉम सुविधाओं को सेवाकर के दायरे से बाहर रखा गया है

उपर्युक्त में से कौनसा कथन सत्य है—

- (1) A व B
- (2) A, C व D
- (3) A, B व C
- (4) A, B, C व D [3]

134. राष्ट्रीय आपदा प्रबंधन योजना से सम्बन्धित कथनों पर विचार कीजिए—

- A. देश में तैयार की गई इस तरह की यह पहली योजना है
- B. इसका उद्देश्य भारत को आपदा प्रतिरोधक बनाना और जन-जीवन तथा सम्पत्ति के नुकसान को कम करना है
- C. यह योजना क्षेत्रीय आधार को ध्यान में रखकर बनाई गई है, जो न सिर्फ आपदा प्रबंधन के लिए बल्कि विकास योजना के लिए भी लाभकारी है
- D. यह योजना 'सेनडाई फ्रेमवर्क' के चार बिन्दुओं पर आधारित है—
कूट—

उपर्युक्त में से कौनसा सत्य कथन है—

- (1) A, B व D
- (2) B, C व D
- (3) A, C व D
- (4) उपर्युक्त सभी [4]

135.इसरो (ISRO) के सन्दर्भ में कौनसा कथन असत्य है—

- (1) भारतीय अंतरिक्ष अनुसंधान संगठन (ISRO) ने 22 जून, 2016 को ध्रुवीय प्रक्षेपणयान पीएसएलवी-सी 34 से एक ही उड़ान में एक साथ रिकॉर्ड 20 उपग्रहों का सफल प्रक्षेपण कर इतिहास रचा
- (2) 17 विदेशी उपग्रहों सहित कुल 20 उपग्रहों का प्रक्षेपण श्री हरिकोटा स्थित सतीश धवन स्पेस सेंटर (SDSC) शार से किया गया
- (3) सभी 20 उपग्रहों का कुल वजन 1288 किग्रा. था
- (4) इसरो ने इससे पहले एक साथ 19 उपग्रहों का प्रक्षेपण 28 अप्रैल, 2010 को किया था [4]

136.भारत में प्रत्यक्ष विदेशी निवेश (एफडीआई) मामलों में कौन-से देश शीर्ष स्थान पर (क्रमशः) हैं?

- (1) मॉरिशस—सिंगापुर—यूएसए
- (2) सिंगापुर—यूएसए—मॉरिशस
- (3) सिंगापुर—मॉरिशस—नीदरलेण्ड्स
- (4) सिंगापुर—मॉरिशस—यूएसए [3]

137.गरुड़ शक्ति-4 संयुक्त सैन्य अभ्यास से सम्बद्ध तथ्यों पर विचार कीजिए—

- A. यह सैन्य अभ्यास मागेलान्ग (इण्डोनेशिया) में भारत और इण्डोनेशिया के मध्य आयोजित किया गया।
- B. दस-दिवसीय इस अभ्यास में दोनों देशों की सेनाओं द्वारा अपनी विशेषज्ञता को साझा किया गया।
- C. यह सैन्याभ्यास दोनों देशों की सैन्य कूटनीति का एक हिस्सा है सही कूट का चयन करें—।

- (1) A और B
- (2) A और C
- (3) B और C
- (4) ये सभी [4]

138.हाल ही में किस विश्व का सर्वश्रेष्ठ फुटबॉलर सम्मान दिया गया है?

- (1) लियोनेल मैसी
- (2) जॉर्ज मेण्डेन्स
- (3) रोनाल्डिन्हो
- (4) उपरोक्त में से कोई नहीं [1]

139.रामनाथ गोयनका लाइफटाइम अचीवमेंट पुरस्कार 2015 किसे प्रदान किया गया?

- (1) आशुतोष मुखर्जी
- (2) प्रभु चावला
- (3) कुलदीप नैयर
- (4) नगेन्द्र सिंह [3]

140.'प्लेइंग इट माई वे' किसकी ऑटोबायोग्राफी है?

- (1) राहुल द्रविड़
- (2) ग्लेन मैकग्रा
- (3) सचिन तेन्दुलकर; बॉरिया मजूमदार
- (4) रिकी पोण्टिंग [3]

141.पण्डित बिरजू महाराज इनमें से किस नृत्य के लिए जाने जाते हैं?

- (1) कथक
- (2) कथकली
- (3) मणिपुरी
- (4) भरतनाट्यम [1]

142.193—सदस्यीय संयुक्त राष्ट्र संघ की कितनी आधिकारिक भाषाएँ हैं?

- (1) 5 (2) 6 (3) 7 (4) 8 [2]

143.सुमेलित कीजिए—

योजना

स्थापना

A. लाडोरानी योजना

1. 22 जुलाई, 2016

B. अम्बेडकर संबल योजना

2. 14 अप्रैल, 2016

C. भामाशाह स्वास्थ्य बीमा योजना

3. 3 सितम्बर, 2015

D. मुख्यमंत्री जन आवास योजना

4. 26 सितम्बर, 2015

कूट :

	A	B	C	D
(1)	1	2	3	4
(2)	4	3	1	2
(3)	4	3	2	1
(4)	3	4	2	1

[1]

144.1 अगस्त, 2016 से प्रारम्भ ईएसआई योजना का लाभ राज्य के कितने जिलों में पूर्ण रूप से मिलेगा—

- (1) 28 जिलों (2) 16 जिलों
(3) 12 जिलों (4) 15 जिलों [1]

145.हाल ही में राजस्थान के किस व्यक्ति को वैश्विक खनन उद्योग में महत्वपूर्ण योगदान के लिए ब्रिटिश संसद में 'भारत गौरव' सम्मान से सम्मानित किया गया है—

- (1) वीरेन्द्र परिहार (2) योगेश खटोरिया
(3) दीनबंधु चौधरी (4) डॉ. जया दवे [2]

146.राजस्थान का वर्ष 2015—16 में 1766.10 मिलियन यूनिट सौर ऊर्जा उत्पादन के साथ देश में कौनसा स्थान रहा है—

- (1) प्रथम (2) द्वितीय
(3) तृतीय (4) चौथा [1]

147.जरूरतमंद लोगों को किफायती एवं सस्ती दर भर भोजन उपलब्ध कराने के उद्देश्य से झालावाड़ जिले में मुख्यमंत्री वसुंधरा राजे ने किस योजना का उद्घाटन किया—

- (1) 'राह योजना' (2) जीमो—सा योजना
(3) मिशन अमृत योजना (4) उपर्युक्त में से कोई नहीं [2]

148. निर्मल भारत अभियान के संदर्भ में निम्न में से असत्य कथन को चुनिये—
- (1) निर्मल भारत अभियान के तहत प्रदेश को 2017 तक खुले में शौच के मुक्त रखने का लक्ष्य रखा गया है
 - (2) अभियान की शुरुआत हनुमानगढ़ जिले से की गई
 - (3) अभियान के तहत बीपीएल / एससी / एसटी लघु व सीमांत कृषक को 9100 रुपये की सहायता सरकार द्वारा उपलब्ध कराई जा रही है
 - (4) उपरोक्त में से कोई नहीं

[4]

149. बजट 2015-16 में मुख्यमंत्री द्वारा प्रस्तावित योजनाओं को सुमेलित कीजिए—

सूची-I

- A. टाईगर सफारी
- B. बायोलॉजिकल पार्क
- C. हर्बल गार्डन
- D. स्मृति वन

सूची-II

1. बीछवाल, बीकानेर
2. जयपुर-पुष्कर बायपास
3. आमली, सवाई-माधोपुर
4. नोलकखा (झालवाड़)

कूट :

	A	B	C	D
(1)	4	3	2	1
(2)	1	2	3	4
(3)	3	1	2	4
(4)	3	1	4	2

[3]

150. 'अक्षदा कार्यक्रम' के संदर्भ में निम्न में कथनों पर विचार कीजिये—

- A. यह कार्यक्रम गर्भधारण से शिशु के दो वर्ष की आयु पूरी होने तक (एक हजार दिन) माता के खून की कमी दूर करने व शिशु मृत्यु दर में कमी लाने से संबंधित है
- B. योजना का लक्ष्य सरकारी योजनाओं का पारदर्शी वितरण और महिलाओं को मजबूती देना है
- C. इस योजना का शुभारम्भ 15 अगस्त, 2014 को मुख्यमंत्री वसुंधरा राजे ने उदयपुर में किया
- D. परियोजना का पहला कार्ड मुख्यमंत्री ने उदयपुर की शांता बाई को सौंपा

कूट—

उपर्युक्त में से कौनसा कथन सत्य है।

- (1) केवल A सही है
- (2) A व B सही है
- (3) A व C सही है
- (4) A, B व C सही है

[4]